


# Πρόσθεση και αφαίρεση αριθμών μέχρι το 10




Όνομα: \_\_\_\_\_ Ημερ.: \_\_\_\_\_


## 1. Βρες την απάντηση στις μαθηματικές προτάσεις:




$$5 + 3 = \underline{\quad}$$



$$9 - 6 = \underline{\quad}$$



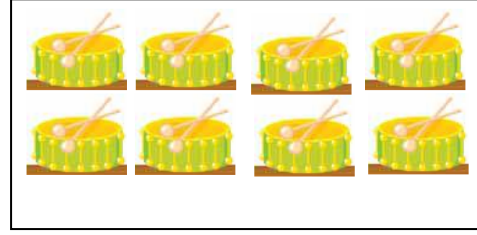
$$5 + 0 = \underline{\quad}$$




$$10 - 5 = \underline{\quad}$$




$$4 + 3 = \underline{\quad}$$



$$8 - 2 = \underline{\quad}$$

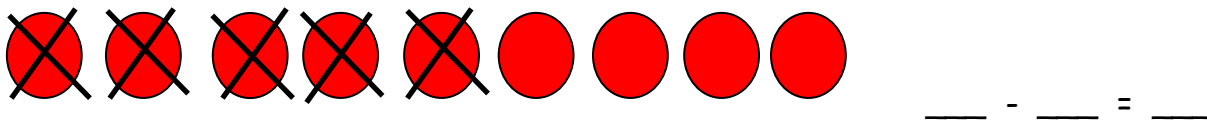
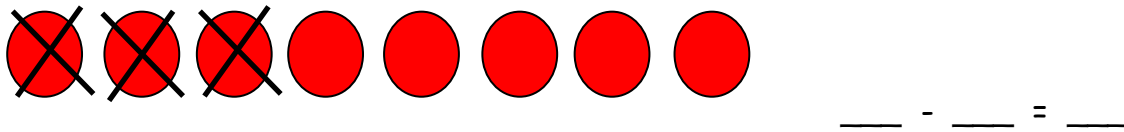




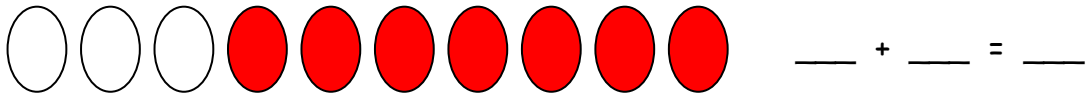


$$3 + 3 = \underline{\quad}$$



$$9 - 1 = \underline{\quad}$$

2. Δες την εικόνα και γράψε τη μαθηματική πρόταση:



3. Γράψε μια μαθηματική πρόταση για την κάθε εικόνα:



---



---

4. Άκουσε τις ιστοριούλες, σχεδίασε μια εικόνα και γράψε τη μαθηματική πρόταση που ταιριάζει:

- Ο Μάριος είχε 5 παιχνίδια. Έδωσε 1 στην Άννα. Πόσα παιχνίδια έχει τώρα ο Μάριος;

---

- Η Νάσια είχε 4 αυτοκόλλητα. Η Μαρία της έδωσε ακόμη 3 αυτοκόλλητα. Πόσα αυτοκόλλητα έχει τώρα η Νάσια;

---