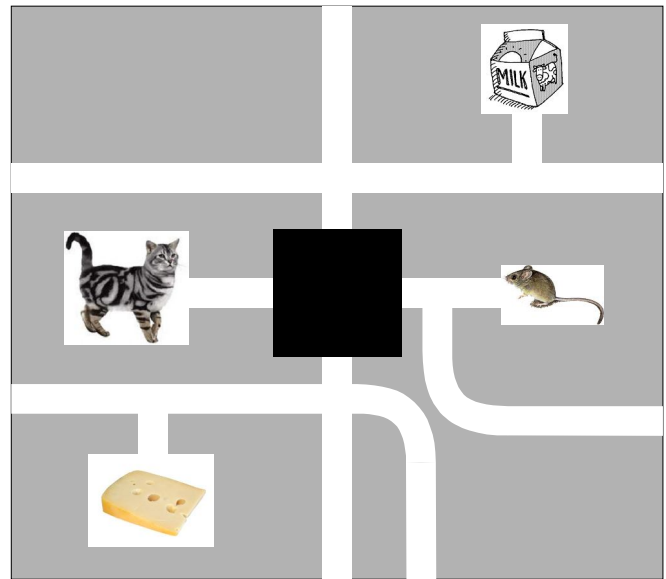
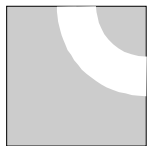
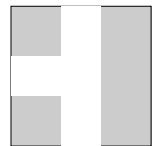

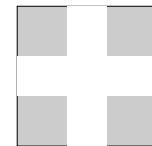



Διάβασε προσεκτικά τα προβλήματα και βάλε σε κύκλο τη σωστή απάντηση

Πηγή: Thales Foundation, Cyprus

1. Υπάρχει ένα σκιασμένο μέρος της εικόνας για το γάτο και το ποντίκι. Ο γάτος θέλει να φτάσει στο δοχείο με το γάλα(milk) και το ποντίκι θέλει να φτάσει το τυρί, χωρίς να συναντηθούν ποτέ. Με ποια εικόνα πρέπει να αντικατασταθεί το σκιασμένο μέρος;








-  **A)**
-  **B)**
-  **C)**
-  **D)**
-  **E)**

2. Ένα μάθημα 40 λεπτών άρχισε στις 11:50. Ακριβώς στο μέσο του μαθήματος, ένα πουλάκι πέταξε στην αίθουσα ξαφνικά. Πότε συνέβη αυτό;

- A) 11:30
- B) 12:00
- C) 12:10
- D) 12:20
- E) 12:30

3. Ο αρχηγός των Ινδιάνων, ο Μεγάλος Αρκούδας, έχει 3 φτερά, τσεκούρι, βέλη και φοράει παπούτσια. Ο γιος του, ο Άσπρος Πάνθηρας έχει 2 φτερά, βέλη, δεν φοράει παπούτσια και έχει δύο γδαρσίματα στο στήθος.

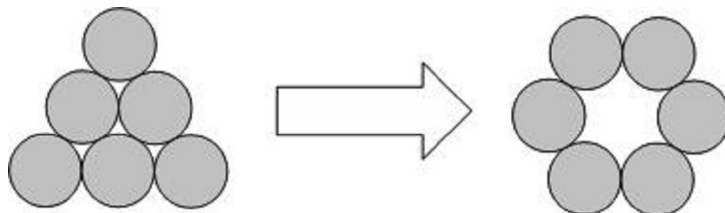
Ποια εικόνα παρουσιάζει τον αρχηγό Μεγάλο Αρκούδα και τον Άσπρο Πάνθηρα;

-  **A)**
-  **B)**
-  **C)**
-  **D)**
-  **E)**

4. Σε ένα εστιατόριο, τα ορεκτικά κοστίζουν €4, το κυρίως πιάτο €9 και το γλυκό €5. Το Μενού που αποτελείται από ορεκτικά, κυρίως πιάτο και γλυκό, κοστίζει €15. Πόσα θα εξοικονομήσει κάποιος, αν παραγγείλει το Μενού αντί ξεχωριστά ορεκτικά, κυρίως πιάτο και γλυκό;

- A) €3 B) €4 C) €5 D) €6 E) €7

5. Έξι νομίσματα σχηματίζουν ένα τρίγωνο. Πρέπει να μετακινηθούν μερικά νομίσματα για να σχηματίσουν τον κύκλο που φαίνεται στη δεύτερη εικόνα. Τουλάχιστο πόσα νομίσματα πρέπει να μετακινηθούν;



- A) 1 B) 2 C) 3 D) 4 E) 5

6. Τέσσερις φίλοι έτρωγαν παγωτά:

- Ο Μάρκος έφαγε περισσότερο από τον Φάνη
- Ο Γιάννης έφαγε περισσότερο από τον Βασίλη
- Ο Γιάννης έφαγε λιγότερο από τον Φάνη

Ποια από τις πιο κάτω λίστες των παιδιών είναι σωστή, αρχίζοντας από το παιδί που έφαγε το πιο πολύ παγωτό προς εκείνο που έφαγε το λιγότερο;

- | | |
|------------------------------------|------------------------------------|
| A) Μάρκος, Γιάννης, Βασίλης, Φάνης | B) Βασίλης, Μάρκος, Φάνης, Γιάννης |
| C) Μάρκος, Φάνης, Γιάννης, Βασίλης | D) Γιάννης, Βασίλης, Μάρκος, Φάνης |
| E) Γιάννης, Μάρκος, Βασίλης, Φάνης | |

7. Χρησιμοποιώντας μόνο κεραμικά της μορφής , ποιό από τα πιο κάτω μωσαϊκά είναι αδύνατο να κατασκευαστεί;

