


1. Which digits are missing?  
 Ποια ψηφία λείπουν;




- (A) 3 and 5    (B) 4 and 8    (C) 2 and 0    (D) 6 and 9    (E) 7 and 1  
 (A) 3 και 5    (B) 4 και 8    (C) 2 και 0    (D) 6 και 9    (E) 7 και 1

2. There are 12 books on a shelf and four children in a room. How many books will be left on the shelf if each child takes one book?  
 Πάνω στο ράφι υπάρχουν 12 βιβλία και στην αίθουσα υπάρχουν τέσσερα παιδιά. Πόσα βιβλία θα μείνουν πάνω στο ράφι αν το κάθε παιδί πάρει ένα βιβλίο;

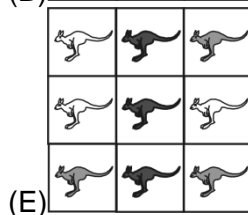
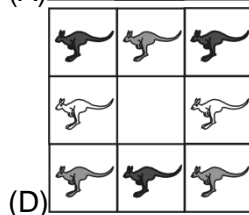


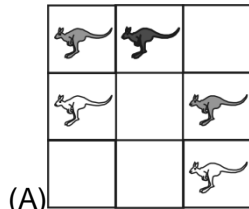


- (A) 12    (B) 8    (C) 4    (D) 2    (E) 0

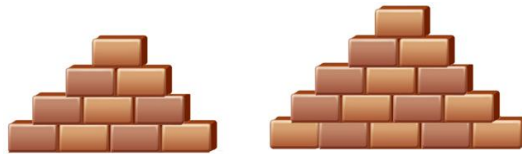
3. Which of the dresses has less than 7, but more than 5 dots?  
 Ποιο από τα φορέματα έχει λιγότερες από 7, αλλά περισσότερες από 5 κοκκίδες.



4. There are white, grey and black kangaroos. Which picture has more black kangaroos than white kangaroos?  
Υπάρχουν άσπρα, γκρίζα και μαύρα Κανγκουρού. Ποια εικόνα έχει περισσότερα μαύρα Κανγκουρού από άσπρα;




5. How many more bricks are there on the larger stack?  
Πόσα περισσότερα τούβλα έχει το μεγαλύτερο κτίσμα;



(A) 4      (B) 5      (C) 6      (D) 7      (E) 10

6. There is a path with square tiles. How many tiles fit in the white area inside?  
Υπάρχει ένα μονοπάτι με τετράγωνα πλακάκια. Πόσα πλακάκια χωρούν μέσα στον άσπρο εσωτερικό χώρο;



(A) 5      (B) 6      (C) 7      (D) 8      (E) 9