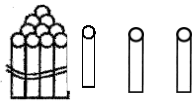


Όνομα: \_\_\_\_\_ Τάξη: \_\_\_\_\_

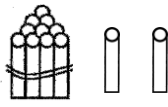
Ημερομηνία: \_\_/\_\_/\_\_ Ημέρα: \_\_\_\_\_ Μήνας: \_\_\_\_\_

### Αισθητοποίηση μέχρι το 20

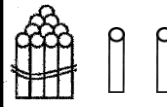
#### 1. Συμπληρώνω:



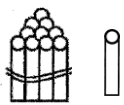
Δ	Μ
---	---



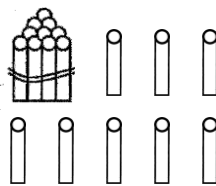
Δ	Μ
---	---



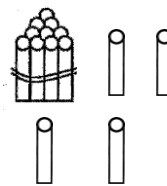
Δ	Μ
---	---



Δ	Μ
---	---



Δ	Μ
---	---



Δ	Μ
---	---

#### 2. Γράψε τους πιο κάτω αριθμούς

δεκατέσσερα


δεκαοκτώ

δώδεκα

δέκα

έντεκα

δεκαπέντε



#### 3. Γράψε το όνομα για τους πιο κάτω αριθμούς

13

\_\_\_\_\_

19

\_\_\_\_\_

17

\_\_\_\_\_

20

\_\_\_\_\_

14

\_\_\_\_\_

16

\_\_\_\_\_

10

\_\_\_\_\_



4. Συμπληρώνω

18 = \_\_\_\_\_ δεκάδες + \_\_\_\_\_ μονάδες

19 = \_\_\_\_\_ δεκάδες + \_\_\_\_\_ μονάδες

10 = \_\_\_\_\_ δεκάδες + \_\_\_\_\_ μονάδες



11 = \_\_\_\_\_ δεκάδες + \_\_\_\_\_ μονάδες

17 = \_\_\_\_\_ δεκάδες + \_\_\_\_\_ μονάδες

10 = \_\_\_\_\_ δεκάδες + \_\_\_\_\_ μονάδες

5. Συγκρίνω τους πιο κάτω αριθμούς <, >, =.

18 \_\_\_\_\_ 12

10 \_\_\_\_\_ 20

11 \_\_\_\_\_ 19

18 \_\_\_\_\_ 18










13 \_\_\_\_\_ 20

14 \_\_\_\_\_ 12

15 \_\_\_\_\_ 15

17 \_\_\_\_\_ 15

6. Χρωμάτισε με κόκκινο χρώμα όσους αριθμούς είναι μεγαλύτεροι από 15 και με μπλε όσους είναι μικρότεροι.



7. Γράψε τους πιο κάτω αριθμούς σε σειρά από το μικρότερο στο μεγαλύτερο

18, 11, 16, 12, 15, 14, 19

8. Χρωμάτισε από κάθε ζευγάρι το κύκλο με το μεγαλύτερο αριθμό.

