

# ΚΑΛΩΣ ΗΛΘΑΤΕ ΣΤΗΝ ΙΤΑΛΙΑ





# ΓΕΩΓΡΑΦΙΚΗ ΘΕΣΗ ΙΤΑΛΙΑΣ



✓ Μπορείτε να εντοπίσετε την Ιταλία στον παγκόσμιο χάρτη;

✓ Σε ποια ήπειρο βρίσκεται;

# ΓΕΩΓΡΑΦΙΚΗ ΘΕΣΗ ΙΤΑΛΙΑΣ



Παρατηρήστε προσεκτικά τον χάρτη που ακολουθεί και προσπαθήστε να απαντήσετε τις πιο κάτω ερωτήσεις.

- ❖ Με ποιες χώρες συνορεύει η Ιταλία;
- ❖ Από ποιες θάλασσες βρέχεται;
- ❖ Με τι μοιάζει το σχήμα της;





# ΓΕΩΓΡΑΦΙΚΗ ΘΕΣΗ ΙΤΑΛΙΑΣ



Η Ιταλία είναι μια από τις τρεις  
\***χερσονήσους** που βρίσκονται  
στη Μεσόγειο Θάλασσα.

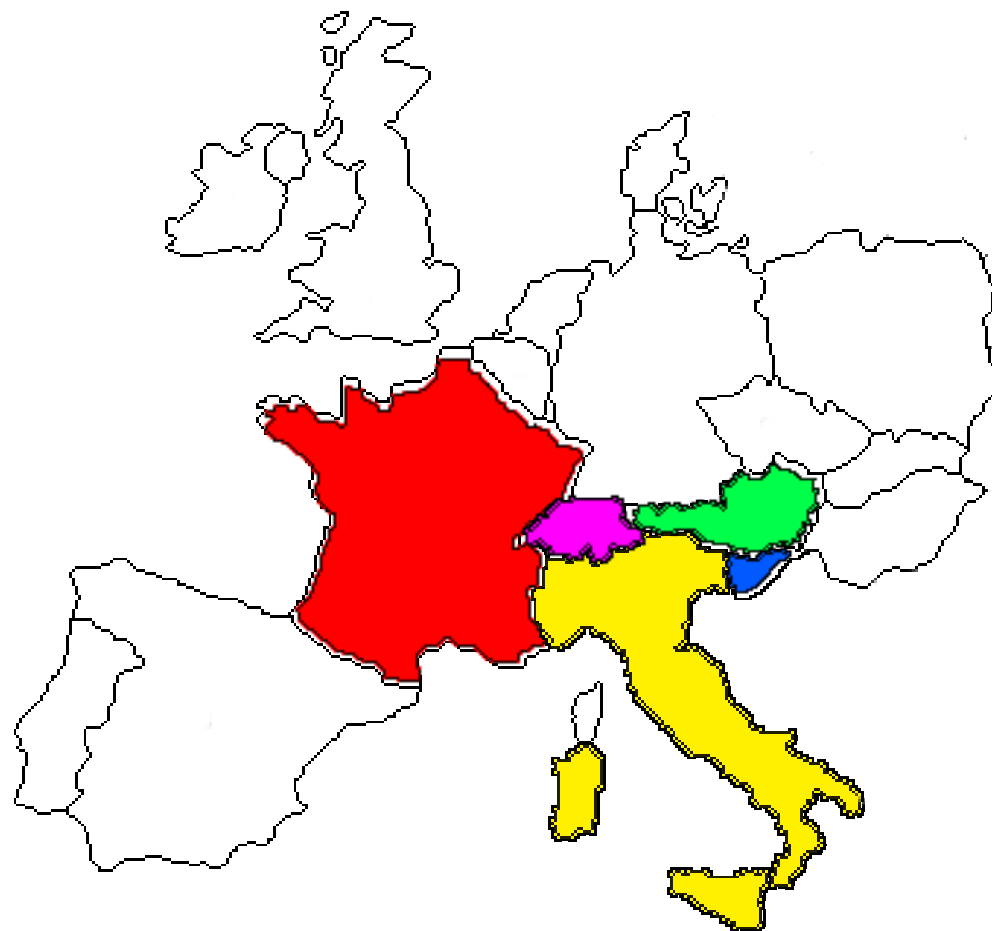
Βρίσκεται στο **νότιο άκρο της**  
**Ευρώπης**, σε κοντινή απόσταση  
και από τη Βόρεια Αφρική αλλά  
και από τις χώρες της Μέσης  
Ανατολής.

\* **Χερσόνησος** λέγεται ένα τμήμα ξηράς, μικρής ή μεγάλης έκτασης, που εισχωρεί μέσα στη θάλασσα με συνέπεια να βρέχεται  
απ' αυτή από τρεις πλευρές.

# ΓΕΩΓΡΑΦΙΚΗ ΘΕΣΗ ΙΤΑΛΙΑΣ

Η Ιταλία συνορεύει  
στο Βόρειο τμήμα της  
με τέσσερις (4)  
χώρες:

1. Γαλλία ●
2. Ελβετία ●
3. Αυστρία ●
4. Σλοβενία ●







Βρέχεται από την  
Αδριατική θάλασσα,  
το Ιόνιο πέλαγος και  
το Τυρρηνικό πέλαγος.

# Ιταλική Δημοκρατία (*Repubblica Italiana*)

- Κυρίαρχο κράτος στην Ευρώπη.
- Αποτελείται από μία χερσόνησο σε σχήμα μπότας και δύο μεγάλα νησιά στη Μεσόγειο θάλασσα: τη Σικελία και τη Σαρδηνία.
- Βόρεια συνορεύει με την Ελβετία και την Αυστρία, βορειοδυτικά με τη Γαλλία και βορειοανατολικά με τη Σλοβενία. Τα ανεξάρτητα κρατίδια του Αγίου Μαρίνου και του Βατικανού βρίσκονται εξ ολοκλήρου μέσα σε ιταλικό έδαφος.





Πρωτεύουσα: **Ρώμη**


Άλλες μεγάλες πόλεις: **Μιλάνο, Νάπολη, Τορίνο, Μπολόνια, Φλωρεντία, Βενετία**

Πληθυσμός: **60.254.680 κάτοικοι**

Επίσημη γλώσσα: **Ιταλική**

Νόμισμα: **Ευρώ (€)**

# Σημαία Ιταλίας



Η σημαία της Ιταλίας είναι τρίχρωμη, με τρεις κάθετες λωρίδες, χρώματος πράσινου, λευκού και κόκκινου. Η Ιταλική τρίχρωμη σημαία είναι ουσιαστικά ίδια με τη Γαλλική με το πράσινο χρώμα αντί για το μπλε. Σύμφωνα με ένα θρύλο, η αλλαγή πραγματοποιήθηκε εξαιτίας του ότι το πράσινο ήταν το αγαπημένο χρώμα του Ναπολέοντα. Υιοθετήθηκε στις 18 Ιουνίου 1946.

# Γεωγραφικά Χαρακτηριστικά



Η Ιταλία όπως φαίνεται από το διάστημα.



# Γεωγραφικά Χαρακτηριστικά



Μελετήστε το διπλανό χάρτη.

Τι παρατηρείτε για το έδαφος της Ιταλίας;

Συγκρίνετε τη μορφολογία του εδάφους στη Βόρεια Ιταλία και στη Νότια Ιταλία;

Πώς νομίζετε ότι οι διαφορές στη μορφολογία του εδάφους σε Βόρεια και Νότια Ιταλία επηρεάζουν τη ζωή των ανθρώπων;

# Μεγάλες οροσειρές

Στο βορειοανατολικό τμήμα της Ιταλίας συναντούμε τις πασίγνωστες οροσειρές **Άλπεις**.

Μια άλλη μεγάλη οροσειρά της Ιταλίας είναι τα όρη **Απέννινα**, που ξεκινούν από την κεντρική Ιταλία και φτάνουν μέχρι και το νοτιότερο άκρο της χώρας, αλλά και τη Σικελία.



# Μεγάλα ποτάμια

## ➤ Τίβερης



## ➤ Πάδος





# ΗΦΑΙΣΤΕΙΑ



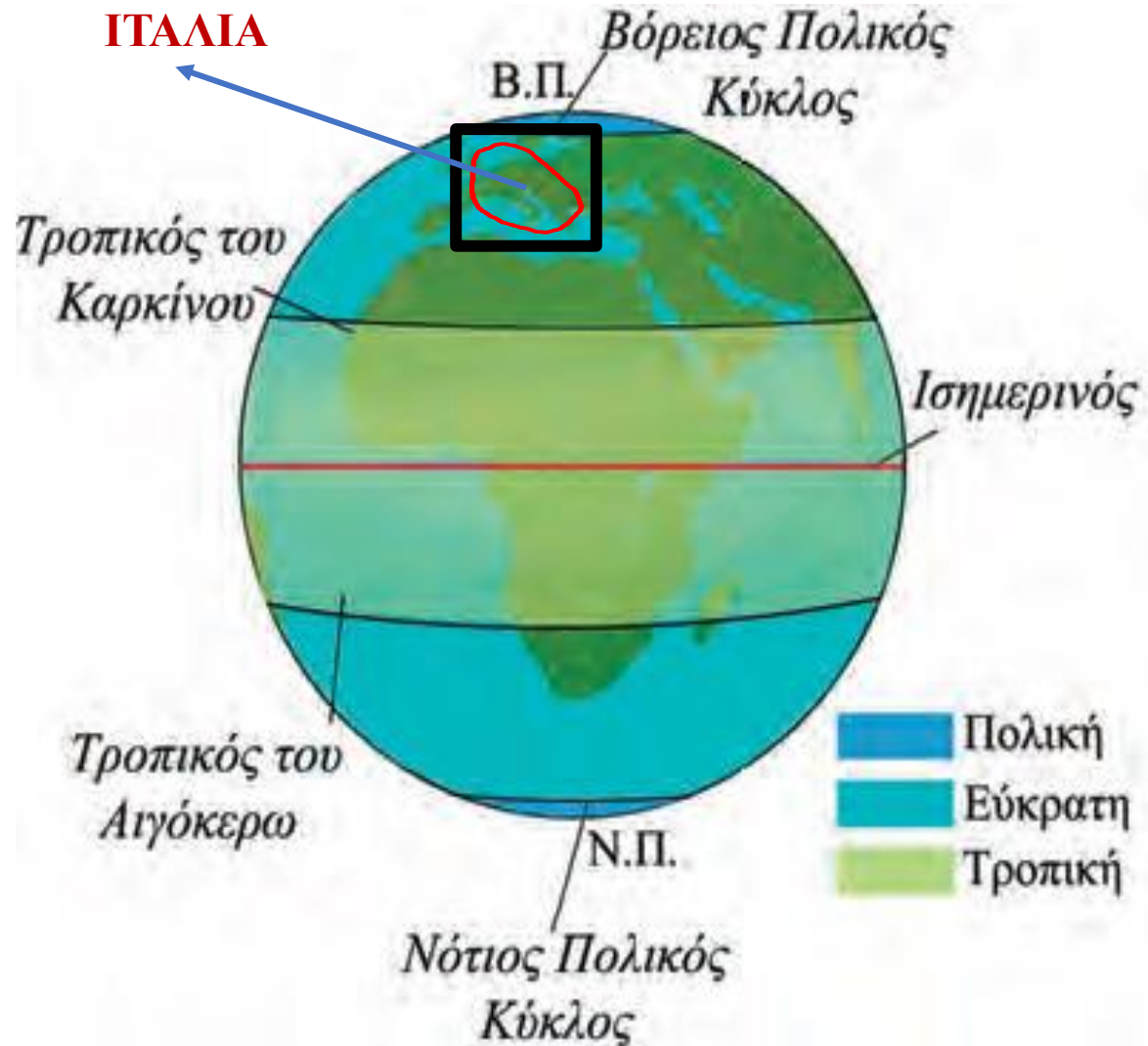
Βεζούβιος



Αίτνα

Για την Ιταλία κυρίως γνωστά είναι τα ηφαίστεια του [Βεζούβιου](#) κοντά στη [Νάπολη](#) και της [Αίτνας](#) στη [Σικελία](#).

# ΚΛΙΜΑ



Προσπάθησε να απαντήσεις τις πιο κάτω ερωτήσεις με τη βοήθεια της διπλανής εικόνας.

- Σε ποιο ημισφαίριο βρίσκεται η Ιταλία, στο βόρειο ή στο νότιο;
- Σε ποια κλιματική ζώνη ανήκει;



# ΚΛΙΜΑ

Η Ιταλία ανήκει στην **Εύκρατη Ζώνη**.

Επειδή όμως η κάθε ζώνη έχει τεράστια έκταση, συναντούμε σε αυτή διάφορες παραλλαγές του ίδιου κλίματος (βλ. Βιβλίο «**Γνωρίζω τον κόσμο μου** Ευρώπη και Μέση Ανατολή» για την Ε΄ δημοτικού σελ. 71-72).

Επομένως η **Β. Ιταλία** έχει κλίμα **ηπειρωτικό** και η **Ν. Ιταλία** **μεσογειακό**.

