

Να αντιστοιχίσετε τα πιο κάτω αξιοθέατα - κατασκευές της Κύπρου μας.

**Γεφύρι Τζελεφού**


**Αββαείο  
Μπέλλα-Παίς**

**«Οβάλ» κτίριο  
Λεμεσός**

**Κάστρο  
Κολοσσίου**

**Αρχαίο θέατρο  
Σαλαμίνας**

**Υδραγωγείο  
Λάρνακας  
(Καμάρες)**















### Διάσημες κατασκευές στον κόσμο και στον τόπο μας ...



1. Στις πιο κάτω εικόνες φαίνονται διάσημες κατασκευές από όλο τον κόσμο!

Αγαλμα της Ελευθερίας, Μουσολείο Ταζ Μαχάλ, Γέφυρα Χρυσής Πύλης, Σινικό Τείχος, Όπερα Σίδνεϋ, Κολοσσαίο, Παρθενώνας, Πύργος του Άιφελ, Ιησούς ο Λυτρωτής, Αγία Σοφία, Πυραμίδες, Στόουνχεντζ.

- Να γράψετε το όνομα της κάθε κατασκευής και τη χώρα στην οποία βρίσκεται κάτω από την κάθε εικόνα.
- Να τοποθετήσετε στον παγκόσμιο χάρτη τον κατάλληλο αριθμό για να δείξετε σε ποια χώρα βρίσκεται η κάθε κατασκευή.

<p>1</p>  <p>ΓΕΦΥΡΑ ΧΡΥΣΗΣ ΠΥΛΗΣ</p>	<p>2</p>  <p>ΑΓΑΛΜΑ ΤΗΣ ΕΛΕΥΘΕΡΙΑΣ</p>	<p>3</p>  <p>ΜΑΥΣΩΛΕΙΟ ΤΑΖ ΜΑΧΑΛ</p>	<p>4</p>  <p>ΠΥΡΑΜΙΔΕΣ</p>
<p>5</p>  <p>ΣΤΟΥΝΧΕΝΤΖ</p>	<p>6</p>  <p>ΟΠΕΡΑ ΣΙΔΝΕΥ</p>	<p>7</p>  <p>ΣΙΝΙΚΟ ΤΕΙΧΟΣ</p>	<p>8</p>  <p>ΚΟΛΟΣΣΑΙΟ</p>
<p>9</p>  <p>ΙΗΣΟΥΣ Ο ΛΥΤΡΩΤΗΣ</p>	<p>10</p>  <p>ΠΑΡΘΕΝΩΝΑΣ</p>	<p>11</p>  <p>ΑΓΙΑ ΣΟΦΙΑ</p>	<p>12</p>  <p>ΠΥΡΓΟΣ ΤΟΥ ΑΙΦΕΛ</p>

