

Οι αριθμοί μέχρι το 100



Όνομα: _____ Ημερομηνία: _____

1. Διάβασε και γράψε τους αριθμούς:

τριάντα έξι → _____	σαράντα οκτώ → _____
είκοσι πέντε → _____	εκατό → _____
δεκατέσσερα → _____	έντεκα → _____
ενενήντα επτά → _____	εξήντα ένα → _____
πενήντα τρία → _____	ογδόντα εννιά → _____
δώδεκα → _____	εβδομήντα δύο → _____

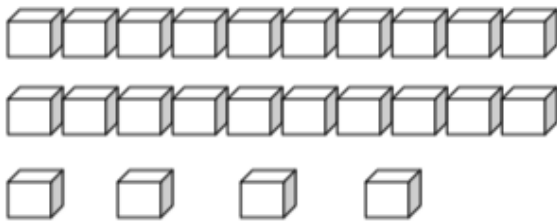
2. Συμπλήρωσε, όπως στο παράδειγμα:

Δεκάδες	Μονάδες	Χρωματίζω	Αριθμός
<div>2</div>	<div>3</div>		<div>23</div>
<div>1</div>	<div>4</div>		<div></div>
<div>5</div>	<div>7</div>		<div></div>
<div>3</div>	<div>2</div>		<div></div>

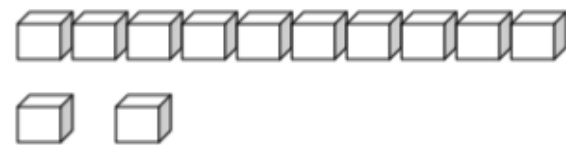
3. Συνέχισε τα μοτίβα:

- 0, 10, 20,,,,,,,, 100
- 5, 10, 15,,,,,,,,
- 30, 31, 32,,,,,,,,
- 1, 21, 31,,,,,,
- 16, 26, 36,,,,,,
- 93, 83, 73,,,,,,,
- 20, 21, 30, 31, 40, 41,,,,,,

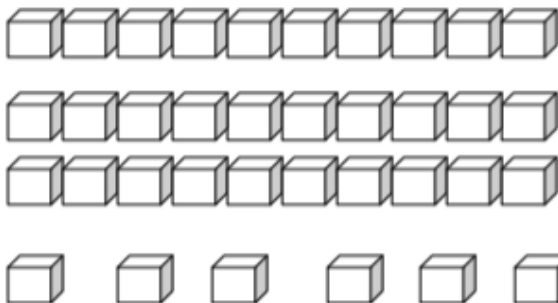
4. Μέτρησε τα κυβάκια και υπολόγισε, όπως το παράδειγμα:



$$\boxed{10} + \boxed{10} + \boxed{4} = \boxed{}$$




$$\boxed{} + \boxed{} = \boxed{}$$




$$\boxed{} + \boxed{} + \boxed{} + \boxed{} = \boxed{}$$

5. Χρωμάτισε τόσα τετραγωνάκια όσα δείχνει ο αριθμός:



26



52

6. Ποιος αριθμός έχει:

- 3 δεκάδες και 8 μονάδες:
- 5 δεκάδες:
- 9 μονάδες:
- 7 δεκάδες και 2 μονάδες:
- 10 δεκάδες:
- 1 δεκάδα και 4 μονάδες:
- 2 δεκάδες και 0 μονάδες:
- 6 μονάδες και 4 δεκάδες:
- 8 μονάδες και 1 δεκάδα:



7. Γράψε τον προηγούμενο και τον επόμενο αριθμό:

____, 37, ____

____, 25, ____

____, 59, ____

____, 10, ____

____, 99, ____

____, 81, ____

____, 69, ____

____, 19, ____

____, 40, ____

8. Γράψε τον αριθμό που είναι ανάμεσα:

85, ____, 87

49, ____, 51

18, ____, 20

68, ____, 70

36, ____, 38

29, ____, 31

9. Κύκλωσε τον μεγαλύτερο αριθμό:

15..... 18

32 31

50 40

45..... 54

92 83

74 78

12 21

67 90

12 17

10. Γράψε τους αριθμούς στη σειρά, αρχίζοντας από τον μικρότερο:

	32	78	90	12	65
<input type="text"/>	<input type="text"/>	<input type="text"/>	<input type="text"/>	<input type="text"/>	<input type="text"/>

11. Γράψε τους αριθμούς στη σειρά, αρχίζοντας από τον μεγαλύτερο:

	76	72	78	79	71
<input type="text"/>	<input type="text"/>	<input type="text"/>	<input type="text"/>	<input type="text"/>	<input type="text"/>

12.



Έχω έναν αριθμό στο μυαλό μου. Είναι μεταξύ του 40 και του 60. Είναι μικρότερος από το 52. Τελειώνει σε 3.

Ποιον αριθμό έχει στο μυαλό του;

13. Βρες το αποτέλεσμα:

$10 + 4 = \underline{\quad}$

$10 + 9 = \underline{\quad}$

$15 - 5 = \underline{\quad}$

$37 - 7 = \underline{\quad}$

$20 + 3 = \underline{\quad}$

$60 + 5 = \underline{\quad}$

$17 - 10 = \underline{\quad}$


$23 - 20 = \underline{\quad}$

$10 + 20 = \underline{\quad}$

$50 + 2 = \underline{\quad}$

$29 - 9 = \underline{\quad}$

$15 - 15 = \underline{\quad}$



Ουφφφ, τελείωσα!!! Ώρα για παιχνίδι!

